

교사용
특별부록

초등사회

선생님 자료 창고

- **쪽지시험** 02
교과서 주제별 주요 개념을 확인할 수 있는 문제입니다. 진도 교재의 교과서 핵심 강의를 학습하기 전에 지난 시간에 배운 내용을 확인하실 때 사용하세요.
- **유형문제** 15
시험에 자주 출제되는 유형 문제로 구성하였습니다. 시험대비 교재의 '단원 평가' 풀이 후 더 많은 문제가 필요한 경우 사용하세요.
- **실전 서술형·논술형 문제** 28
출제율이 높은 서술형·논술형 문제를 집중적으로 풀어 볼 수 있는 코너입니다. 학교 시험에서 서술형·논술형 문제의 출제 비중이 높은 학생들에게 추가 문제로 사용하세요.
- **중간·기말 학력평가** 36
학력평가 예상 문제를 '중간 범위, 중간 이후 범위, 전 범위'로 구성하였습니다. 시험대비 교재의 '중간·기말 대비 단원별 학력평가' 풀이 후 더 많은 문제가 필요한 경우 사용하세요.
- **정답과 해설** 45

교사용 자료 온라인 제공

❖ 강의의 편의성을 위해 교사용 특별부록 자료를 온라인에서도 제공합니다.

① 교사용 교재에 수록한 「선생님 자료 창고 PDF」 파일

② 교사용 CD에 수록한 「핵심 정리/단원 평가/서술형 평가/학기말 평가」 한글 파일

교사용 자료는 비상교육 홈페이지(www.visang.com/book → 학원선생님 → 초등자료실 → 사회)에서 내려받으실 수 있습니다.

6-2

답

1 은/는 갈등이나 대립을 조정하고 많은 사람들에게 영향을 끼치는 공동의 문제를 해결해 가는 활동을 말합니다.

1

2 우리나라는 국가의 정치가 다수의 에 의하여 결정되는데, 이를 민주 정치라고 합니다.

2

3 다음 내용이 맞으면 ○표, 틀리면 ×표 하시오.

3

나린이네 반에서 '우리가 함께 지켜야 할 휴대 전화에 관한 규칙'을 두고 회의를 하는 일도 정치에 해당합니다.

4 국가에서 많은 사람들이 함께 지키기로 약속하고 만든 규칙을 무엇이라고 합니까?

4

5 법은 사람들 사이에서 일어나는 을/를 해결하여 사회 질서를 유지하고, 사람들이 편안하고 행복한 삶을 누릴 수 있도록 도와줍니다.

5

6 1957년 만들어진 우주에 관한 법에 의하면 우주는 적으로만 사용할 수 있습니다.

6

7 은/는 우리나라에서 가장 기본이 되고 중요한 법으로, '법 중의 법'이라고 불립니다.

7

8 우리나라 헌법에는 '대한민국의 주권은 국민에게 있고, 모든 은/는 국민으로부터 나온다.'라는 내용이 있습니다.

8

9 다음 내용 중 알맞은 말에 ○표 하시오.

9

헌법 재판소는 헌법을 지키고, (국민 , 법관)의 권리를 보호하는 기관입니다.

10 전체 시민이 '아고라'라는 광장에 모여 회의를 하고, 투표로 의견을 모으는 정치가 이루어졌던 나라는 어디입니까?

10

쪽지 시험

1-2 국가의 일을 맡아 하는 기관들

답

1 은/는 국민들이 직접 뽑은 국회 의원들이 모인 기관입니다.

1

2 다음 내용 중 알맞은 말에 ○표 하시오.

2

국민의 대표인 국회 의원은 (4 , 5)년에 한 번씩 선거를 통해 뽑습니다.

3 국회에서는 국민을 위한 을/를 만드는 일을 합니다.

3

4 국가 살림을 위한 돈을 어디에, 어떻게 나누어 쓸지 계획한 것으로, 정부가 만드는 것은 무엇입니까?

4

5 법에 따라 옳고 그름을 따져 사람들 사이에서 생긴 갈등을 해결하여 주는 기관은 어디입니까?

5

6 다음 내용이 맞으면 ○표, 틀리면 ×표 하시오.

6

우리나라는 공정한 재판을 하기 위하여 한 사건에 대하여 원칙적으로 네 번까지 재판을 받을 수 있는 제도를 마련하였습니다.

7 대통령, 국무총리, 행정 각 부로 구성되어 있는 기관은 어디입니까?

7

8 대통령이 외국을 방문하거나 그 밖의 이유로 일을 하지 못할 때 대통령이 할 일을 대신 맡아서 하는 사람은 누구입니까?

8

9 영국이나 일본 등의 국가에서는 국회에서 정부 책임자를 뽑는데, 이를 (이)라고 합니다.

9

10 우리나라에서 법을 만드는 일, 법에 따라 국가 살림을 하는 일, 법에 따라 재판을 하는 일을 나누어 맡아 하고 있는 것을 무엇이라고 합니까?

10

쪽지 시험

1-③ 국민의 권리와 의무

답

1 헌법에서는 인간으로서 지니는 을/를 가지고 행복하게 살아갈 권리를 바탕으로 하여 다양한 분야에서 국민의 권리를 보장하고 있습니다.

1

2 누구든지 성별, 종교 또는 사회적 신분에 의하여 받지 않을 권리가 있습니다.

2

3 국민의 권리를 보장받지 못한 경우에는 이를 제대로 보장받을 수 있도록 할 권리도 있습니다.

3

4 다음 내용 중 알맞은 말에 ○표 하시오.

4

국민의 권리가 서로 충돌할 때, 충돌하는 국민의 권리는 헌법을 바탕으로 하여 서로 (조화 , 보장)을/를 이루도록 조정하여야 합니다.

5 국민의 권리는 다른 사람의 권리와 조화를 이루어야 하고, 질서유지를 위하여 할 필요도 있습니다.

5

6 국민의 권리를 법률로써 제한할 경우에도 와/과 권리의 본질적인 내용은 침해할 수 없습니다.

6

7 국민이 내는 세금은 나라를 발전시키고 국민의 삶의 질을 높이는 중요한 역할을 하므로 헌법에서는 납세를 국민의 (으)로 정하고 있습니다.

7

8 국민이 안심하고 생활할 수 있도록 나라를 지키는 국민의 의무를 무엇이라고 합니까?

8

9 민수가 쓰레기를 분류하여 배출하는 것은 을/를 위하여 노력할 의무를 지키는 것입니다.

9

10 다음 내용이 맞으면 ○표, 틀리면 ×표 하시오.

10

국민의 의무를 지키는 것은 국민의 권리를 보다 잘 누리기 위한 노력이기도 합니다.

쪽지 시험

1-④ 행복한 삶과 인권

답

1 은/는 사람이면 누구나 존중받고 행복하게 살기 위하여 마땅히 누려야 할 권리입니다.

1

2 다음 내용이 맞으면 ○표, 틀리면 ×표 하시오.

2

사람답게 살기 위하여 필요한 것이 사람마다 다릅니다.

3 세계 인권의 날은 언제입니까?

3

4 제2차 세계 대전이 끝난 뒤, 1948년 국제 연합 총회에서는 을/를 발표하였습니다.

4

5 학교 폭력 등의 문제는 을/를 제대로 고려하지 않고 존중하지 못할 때 일어날 수 있습니다.

5

6 다른 사람들의 인권을 존중하는 것은 결국 자신의 을/를 보장받기 위해서도 중요합니다.

6

7 지역 사회와 정부에서는 장애인의 인권을 존중하여 계단을 휠체어로 이동할 수 있는 을/를 만들었습니다.

7

8 지역 사회나 정부에서 설치한 점자 블록은 누구를 위한 시설입니까?

8

9 인터넷 사용자들은 인터넷을 바르게 사용하여 인권을 침해하지 않고 서로 하자는 내용의 캠페인을 벌이고 있습니다.

9

10 다음 내용 중 알맞은 말에 ○표 하시오.

10

'살색'이라는 단어가 피부색이 다른 사람들에게 대한 차별이라고 생각하여 (경찰서 , 국가 인권 위원회)를 통해 '살구색'으로 명칭을 바꾸었습니다.

1 다음 내용이 맞으면 ○표, 틀리면 ×표 하시오.

중국은 세계에서 영토가 가장 넓은 나라로, 한반도 전체 넓이의 약 78배입니다.

2 중국은 의 차이가 크기 때문에 지역에 따라 다양한 기후가 나타납니다.

3 일본은 섬나라이기 때문에 의 영향을 많이 받으며 비와 눈이 많이 내립니다.

4 티베트고원은 평균 해발 고도가 4500m나 되고, 세계에서 가장 높은 산이 있습니다.

5 세계에서 가장 깊은 호수로, 그 깊이가 한라산 높이에 조금 못 미치는 러시아의 호수는 무엇입니까?

6 지진이 많이 일어나는 지역으로, 주로 긴 띠 모양을 이루고 있는 곳을 무엇이라고 합니까?

7 중국은 근처를 지나가는 동경 120°의 시각을 중국 전체의 표준시로 삼고 있습니다.

8 다음 내용 중 알맞은 말에 ○표 하시오.

일본은 (환태평양 , 알프스·히말라야) 화산대에 속해 있으며 전 세계 화산의 약 10%가 일본에 있습니다.

9 의 시베리아 지역은 사람들이 살고 있는 지역 중 가장 추운 곳입니다.

10 우리나라, 러시아, 몽골, 카자흐스탄, 키르기스스탄, 타지키스탄, 아프가니스탄, 파키스탄, 인도, 네팔, 부탄, 미얀마, 라오스, 베트남까지 14개의 나라와 국경을 접하고 있는 나라는 어디입니까?

1

2

3

4

5

6

7

8

9

10

- 1 은/는 넓고 긴 소매와 화려한 문양과 색깔이 특징인 일본의 전통 의상입니다.
- 2 중국의 4대 요리를 쓰시오.
- 3 중앙에 네모난 정원을 두고, 북쪽과 동쪽, 서쪽에 가옥을 배치 하며 남쪽에는 출입문을 만들어 놓는 중국의 전통적인 집 형태를 (이)라고 합니다.
- 4 일본의 전통적인 운동으로 우리나라의 씨름과 비슷한 스포츠는 무엇입니까?
- 5 은/는 고기 국물에 감자, 당근, 양배추를 넣고 빨간 무와 토마토소스로 붉게 색깔을 낸 수프로, 러시아의 대표 음식입니다.
- 6 앞발로 사람을 부르는 형태를 한 고양이 장식물로, 오른발을 들고 있는 고양이는 돈을, 왼발을 들고 있는 고양이는 손님을 부른다고 하는 일본의 행운의 상징은 무엇입니까?
- 7 우리나라와 중국, 일본 사람들은 모두 을/를 사용하여 음식을 먹고, 밥과 국, 반찬 등을 상에 올립니다.
- 8 다음 내용 중 알맞은 말에 ○표 하시오.

우리나라와 중국, 일본 사람들이 허리를 굽혀 인사를 하는 이유는 (불교 , 유교)의 영향을 받았기 때문입니다.
- 9 우리나라의 추석과 같은 의미를 지닌 중국의 명절은 무엇입니까?
- 10 일본의 오봉과 러시아의 성 드미트리 토요일은 을/를 기준으로 날짜가 정해져 있습니다.

1

2

3

4

5

6

7

8

9

10

답

1 우리 주변에서 이웃 나라에서 생산된 물건을 쉽게 볼 수 있는 까닭은 이웃 나라에서 만든 물건들의 이/가 늘어났기 때문입니다.

1

2 우리나라에 공부를 하기 위하여 들어오는 외국인 유학생 중 가장 큰 비중을 차지하는 나라는 어디입니까?

2

3 (이)란 중국과 몽골 경계에 있는 건조 지대에서부터 부는 바람을 타고 오는 누런 먼지를 말합니다.

3

4 다음 내용이 맞으면 ○표, 틀리면 ×표 하시오.

4

중국 내륙 지방의 숲과 들이 사라짐에 따라 지하수가 메마르고 호수와 강이 말라 사막이 넓어지고 있는 것은 지구 온난화 때문입니다.

5 우리나라는 2013년 1월 30일 '나로 과학 위성'을 에 실어 쏘아 올리는 데 성공하였습니다.

5

6 일본에서 조상의 위패를 두고 제사를 지내는 곳을 무엇이라고 합니까?

6

7 야스쿠니 신사에 제2차 세계 대전을 일으킨 전쟁 범죄자들의 이름이 적힌 책을 놓고 참배를 하고 있는 나라는 어디입니까?

7

8 다음 내용 중 알맞은 말에 ○표 하시오.

8

우리나라의 역사인 고조선과 고구려, 발해의 역사를 자국 역사의 일부분이라고 주장하고 있는 나라는 (일본, 중국) 입니다.

9 황해에서는 중국 어선이 꽃게를 비롯한 각종 물고기를 잡으려고 우리 을/를 침범하여 갈등을 일으키고 있습니다.

9

10 마라도 남서쪽 149km 거리에 있는 암초로, 우리나라가 2003년 종합 해양 과학 기지를 건설한 곳은 어디입니까?

10

쪽지 시험

3-① 세계 여러 나라의 모습

답

1 세계의 육지는 , 유럽, 아프리카, 북아메리카, 남아메리카, 오세아니아로 나뉩니다.

1

2 아시아, 북아메리카, 남아메리카, 오세아니아 등에 둘러싸인 세계 최대의 대양은 무엇입니까?

2

3 다음 내용 중 알맞은 말에 ○표 하시오.

3

지구에서 가장 추운 곳으로 두꺼운 얼음이 육지를 뒤덮고 있는 지역은 (남극 , 북극) 대륙입니다.

4 1958년부터 1961년까지 2년 10개월간 지구 세 바퀴 반의 거리를 여행한 우리나라 최초의 세계 배낭 여행가는 누구입니까?

4

5 해당 나라의 위도와 경도를 알면 지구본이나 세계 지도에서 그 나라의 을/를 쉽게 찾을 수 있습니다.

5

6 아시아 대륙의 서남쪽, 북위 15°~35°, 동경 35°~55°에 위치하며 홍해, 페르시아만과 접해 있는 나라는 어디입니까?

6

7 실제 지구의 모습을 아주 작게 줄여서 지구와 비슷한 모양으로 만든 것을 무엇이라고 합니까?

7

8 세계에서 가장 큰 나라는 이며, 가장 작은 나라는 입니다.

8

㉠:

㉡:

9 남북의 길이가 세계에서 가장 긴 나라로, 남한의 길이보다 10배 가량 긴 나라는 어디입니까?

9

10 다음 내용이 맞으면 ○표, 틀리면 ×표 하시오.

10

이탈리아, 이집트, 칠레, 인도네시아는 위치에 따라 기후가 다르며 살고 있는 동물과 식물의 종류, 자연환경의 모습도 다릅니다.

답

1 다양한 체험 행사를 통해 다른 나라의 문화를 직접 경험해 보기 위하여 만든 날은 무엇입니까?

1

2 다음 내용 중 알맞은 말에 ○표 하시오.

2

영국의 자동차 운전석은 (왼쪽 , 오른쪽)에 있습니다.

3 그리스의 올림피아는 제우스에게 제사를 지냈던 곳으로 이/가 탄생한 곳이기도 합니다.

3

4 산타클로스의 고향인 핀란드의 에는 산타클로스의 사무실, 도서관, 우체국 등이 있습니다.

4

5 의 대표 음식인 굴라시는 마늘, 쇠고기, 당근, 무 등을 넣고 파프리카, 고추로 매콤하게 끓여 낸 것입니다.

5

6 남아메리카의 주변에는 열대 밀림이 넓게 펼쳐져 있으며, 이곳에는 다양한 부족들이 자신들만의 문화를 지키며 살아가고 있습니다.

6

7 과거 궁전이었던 건물을 박물관으로 개조하여 모나리자, 비너스 조각상 등 세계적인 미술 작품들을 전시하는 프랑스의 박물관은 무엇입니까?

7

8 손바닥을 아래로 향하고 까딱이는 몸짓은 우리나라를 비롯한 아시아 지역에서는 ‘이쪽으로 오라.’라는 뜻이지만, 유럽과 아메리카 지역에서는 ‘’라는 뜻으로 사용됩니다.

8

9 다음 내용이 맞으면 ○표, 틀리면 ×표 하시오.

9

몸짓은 중요한 의사소통 방법 가운데 하나로, 어느 나라나 의미가 같습니다.

10 인도에서는 일반적으로 가 청혼을 합니다.

10

- 1 우리나라가 석유를 주로 수입하는 지역은 어디입니까?
- 2 우리나라는 뛰어난 (으)로 다른 나라의 발전을 돕고 있습니다.
- 3 우리나라 업체가 아랍 에미리트에 건설한 세계 최고층(163층, 828m) 건물은 무엇입니까?
- 4 대부분의 서남아시아 사람들은 을/를 믿습니다.
- 5 이슬람교를 믿는 사람들은 하루에 다섯 번씩 정해진 시각에 성지인 을/를 향하여 기도를 해야 합니다.
- 6 서남아시아로 수출하는 우리나라의 물건 중 낮과 밤의 기온 차이가 매우 큰 서남아시아 지역의 기후적 특징 때문에 큰 인기를 얻고 있는 것은 무엇입니까?
- 7 우리나라와 비교적 가깝고 적도 부근에 위치하여 1년 내내 덥고 습한 지역은 어디입니까?
- 8 다음 내용 중 알맞은 말에 ○표 하시오.

동남아시아에는 (비 , 눈)이/가 내리지 않기 때문에 스키를 타러 우리나라로 옵니다.
- 9 다음 내용 중 알맞은 말에 ○표 하시오.

우리나라를 방문한 외국인 수는 꾸준히 (증가 , 감소)하고 있습니다.
- 10 다음 내용이 맞으면 ○표, 틀리면 ×표 하시오.

사람들은 다양한 목적으로 다른 나라와 교류를 하며, 이러한 교류를 통해 서로에게 많은 영향을 주고받으며 살아갑니다.

1
2
3
4
5
6
7
8
9
10

1 의 발달로 우리의 생활은 보다 편리해졌습니다.

1

2 버스 정류장에서 버스 도착 시각을 알려 주는 알림판은 무엇입니까?

2

3 다음 내용 중 알맞은 말에 ○표 하시오.

3

자동차의 (추돌 예방 레이더 , 졸음운전 감시 장치)는 앞에 천천히 달리는 차가 있을 경우 에어백과 머리 받침이 작동하도록 미리 준비하는 기능입니다.

4 최근에 재료를 겹겹이 쌓아 올려 원하는 모양을 만들어 내는 프린터가 개발되었습니다.

4

5 에서 나오는 방사선은 암 치료에 사용되기도 하지만, 오랜 시간 노출되면 백혈병이나 악성 빈혈에 걸릴 수도 있는 물질입니다.

5

6 변형 기술을 이용하면 미래의 식량 문제를 해결할 수 있습니다.

6

7 서비스는 특정한 관심이나 활동을 공유하는 사람들을 연결하여 주는 온라인 서비스입니다.

7

8 다음 내용이 맞으면 ○표, 틀리면 ×표 하시오.

8

온라인 백과사전에 있는 정보들은 모두 정확합니다.

9 은/는 사람들이 서로 소통하면서 가치 있는 정보를 찾아 공유하며, 이를 활용하여 새로운 정보를 만드는 사회입니다.

9

10 스마트폰 사용 시간이 늘어나고, 틈이 날 때마다 스마트폰을 습관처럼 사용하게 되는 정보 사회의 문제점은 무엇입니까?

10

쪽지 시험

4-② 세계화의 모습과 우리의 역할

답

1 은/는 지구촌의 여러 나라 사람들이 서로 가깝게 연결되어 긴밀한 영향을 주고받는 것을 말합니다.

1

2 세계 여러 나라가 보다 자유로운 무역을 위해서 무역 장벽을 없애거나 낮추는 협정은 무엇입니까?

2

3 다음 내용이 맞으면 ○표, 틀리면 ×표 하시오.

3

각 나라가 해결하기 힘든 환경 문제 등을 여러 나라가 정치적으로 협력하여 해결하고자 하는 과정에서 개발 도상국들의 입장이 경시되기도 합니다.

4 세계 여러 나라 대표들이 1992년 브라질의 리우데자네이루에 모여 온실가스 배출량을 제한하는 내용으로 맺은 협약은 무엇입니까?

4

5 브라질 정부가 유역을 개발하면서 밀림을 파괴하자 선진국들은 지구 전체의 환경을 위하여 브라질 정부의 개발을 반대하고 있습니다.

5

6 에 속해 있는 대부분의 나라들은 같은 화폐를 사용하며, 정치적인 문제가 있을 때에는 회의를 통해 공동으로 해결합니다.

6

7 동남아시아에 위치한 10개국이 결성한 은/는 2015년 12월 31일에 하나의 경제권을 목표로 하는 아세안 경제 공동체(AEC)를 결성하였고, 2020년 완전 통합을 목표로 하고 있습니다.

7

8 프라이드치킨은 과/와 아프리카의 음식 문화가 미국의 기후에 맞게 변형되어 탄생한 음식입니다.

8

9 세계화 속에서 우리는 각각의 문화를 없이 보아야 합니다.

9

10 2001년 11월 3일 프랑스 파리에서 열린 유네스코 정기 총회에서 세계화로 인해 위협받고 있는 각 나라와 각 지역의 고유한 문화를 보호하기 위하여 채택한 선언은 무엇입니까?

10

- 1 이/가 일어나면 폭격으로 건물이 무너져 어린이들이 목숨을 잃거나 부모를 잃고 고아가 되기도 합니다.
- 2 (으)로 해수면이 상승하여 국토가 서서히 잠기고 있는 섬나라가 있습니다.
- 3 1945년 10월에 설립되어 지구촌의 평화 유지, 전쟁 방지, 국제 협력 활동을 하는 국제기구는 입니다.
- 4 전 세계 어린이를 위하여 일하는 국제 연합 기구는 무엇입니까?
- 5 교육, 과학, 문화 분야에서 국제 협력을 하며 보호해야 할 가치가 있다고 인정되는 세계 유산을 지키는 일을 하는 국제 연합 기구는 무엇입니까?
- 6 은/는 전 세계 모든 사람들이 최고의 건강 수준에 도달하는 것을 목적으로 활동하는 국제 연합 기구입니다.
- 7 비정부 기구는 지구촌에 갈등과 문제가 발생하였을 때 이를 해결하기 위하여 국가가 아닌 들이 중심이 되어 만들어진 조직입니다.
- 8 다음 내용이 맞으면 ○표, 틀리면 ×표 하시오.

해비타트에서는 모든 사람들이 편안한 집에서 살 수 있도록 집 고치기, 집 짓기 활동을 합니다.
- 9 아프리카 신생아들에게 털모자가 필요한 까닭은 아프리카의 낮과 밤의 기온 차가 커서 체온이 떨어지는 (으)로 죽는 아이들이 많기 때문입니다.
- 10 다음 내용 중 알맞은 말에 ○표 하시오.

우리나라뿐만 아니라 다른 나라에서 대형 재난이 발생하였을 때 구조 활동에 앞장서는 우리나라의 구조대는 (119 국제 구조대 , 세계 보건 기구)입니다.

1

2

3

4

5

6

7

8

9

10

유형 ① 정치와 우리 생활

(1) 정치와 민주 정치의 뜻

정치	갈등이나 대립을 조정하고 많은 사람들에게 영향을 끼치는 공동의 문제를 해결해 가는 활동
민주 정치	국가의 정치가 다수의 국민에 의하여 결정되는 것

(2) 정치의 예

- ① 학교: '우리 학교를 대표할 전교 학생 회장을 어떻게 뽑을 것인가?'에 대하여 토의하는 일
- ② 국가: '국민들이 낸 세금을 어디에, 얼마나 사용할 것인가?'라는 문제를 해결해 가는 일

1 다음에서 설명하는 것은 무엇인지 쓰시오.

국가의 정치가 다수의 국민에 의하여 결정되는 것을 말합니다.

()

2 오늘날의 민주 정치에 대한 설명으로 바르지 않은 것은 어느 것입니까? ()

- ① 중요한 문제를 투표로 결정한다.
- ② 선거를 통해 국민의 대표자를 뽑는다.
- ③ 대표자가 국민을 대신해서 정치를 한다.
- ④ 일정한 나이 이상의 남녀 모두가 정치에 참여한다.
- ⑤ 모든 사람이 광장에 모여 회의를 하고, 의견을 모은다.

3 다음 보기에서 정치의 사례로 알맞은 것을 모두 골라 기호를 쓰시오.

보기

- ㉠ 학교 규칙은 어떻게 정해야 할까?
- ㉡ 소풍 때 도시락을 싸 가지고 갈까?
- ㉢ 나는 점심시간에 무엇을 하며 놀까?
- ㉣ 우리 지역의 대표자로 누구를 뽑을까?

()

유형 ② 법


의미	국가에서 많은 사람들이 함께 지키기로 약속하고 만든 규칙
역할	사람들 사이에서 일어나는 갈등을 해결하여 사회 질서를 유지하고, 사람들이 편안하고 행복한 삶을 누릴 수 있도록 도와준다.
특징	법이 사회의 변화에 맞지 않거나 제 역할을 하지 못할 경우 법에 따라 법을 바꾸거나 다시 만든다.

4 법에 대한 설명으로 바르지 않은 것은 어느 것입니까? ()

- ① 국민이면 누구나 지켜야 한다.
- ② 사회의 변화에 맞지 않아도 절대 바꿀 수 없다.
- ③ 사람들이 편안하고 행복한 삶을 누릴 수 있도록 도와준다.
- ④ 국가에서 많은 사람들이 함께 지키기로 약속하고 만든 규칙이다.
- ⑤ 사람들 사이에서 일어나는 갈등을 해결하여 사회 질서를 유지한다.

5 다음 내용의 법과 관련 있는 생활 모습으로 알맞은 것은 어느 것입니까? ()

식당에서 깨끗하고 안전한 음식을 먹을 수 있도록 한 법이 있습니다.



유형 ① 국민의 권리

- (1) 헌법에서 보장하는 국민의 권리
- ① 국민은 직업 등 모든 생활 영역에서 자유롭게 활동할 수 있는 권리
 - ② 누구든지 성별, 종교 또는 사회적 신분에 의하여 차별받지 않을 권리
 - ③ 인간다운 생활을 할 수 있는 권리를 가지며, 능력에 따라 균등한 교육을 받을 수 있는 권리
 - ④ 누구나 국가 정책이나 정치에 참여할 수 있는 권리
 - ⑤ 국민은 기본권을 보장받기 위하여 국가에 대해 일정한 청구를 할 수 있는 권리
- (2) 헌법에서 국민의 권리를 제시한 까닭: 국민들의 행복한 삶을 보장하기 위해서입니다.

1 다음 빈칸에 들어갈 알맞은 말을 쓰시오.

우리나라는 국민 누구나 행복하게 살 수 있는 권리를 ()에서 보장하고 있습니다.





()

2 다음 중 국민의 권리가 아닌 것은 어느 것입니까? ()

- ① 차별받지 않을 권리
- ② 직업을 자유롭게 선택할 권리
- ③ 군대에 가서 나라를 지키는 권리
- ④ 능력에 따라 균등한 교육을 받을 권리
- ⑤ 국가 정책이나 정치에 참여할 수 있는 권리

3 다음에서 설명하는 국민의 권리와 관계 깊은 모습은 어느 것입니까? ()

능력에 따라 균등한 교육을 받을 권리

- ① 
- ② 
- ③ 
- ④ 

유형 ② 국민의 의무

교육의 의무	자녀에게 적어도 초등 교육과 법률이 정하는 교육을 받게 할 의무가 있음.
근로의 의무	국가는 근로자의 고용과 적정 임금의 보장을 위하여 노력해야 하고, 국민은 근로의 의무가 있음.
국방의 의무	국민이 안심하고 생활할 수 있도록 나라를 지키는 의무가 있음.
환경 보전을 위하여 노력할 의무	국가와 국민은 환경을 잘 가꾸며 보호하기 위하여 노력할 의무가 있음.
납세의 의무	국민은 나라의 살림을 튼튼히 하기 위하여 세금을 내야 할 의무가 있음.

4 납세의 의무와 관계 깊은 설명으로 바른 것은 어느 것입니까? ()

- ① 나라를 지켜야 한다.
- ② 열심히 일을 해야 한다.
- ③ 자녀에게 교육을 받게 해야 한다.
- ④ 세금을 내서 나라 살림을 튼튼하게 해야 한다.
- ⑤ 국가는 근로자의 고용을 위하여 노력해야 한다.

5 다음에서 설명하는 국민의 의무는 무엇입니까? ()

국가와 국민은 환경을 잘 가꾸며 보호하기 위하여 노력할 의무가 있습니다.



- ① 교육의 의무
- ② 근로의 의무
- ③ 국방의 의무
- ④ 납세의 의무
- ⑤ 환경 보전을 위하여 노력할 의무

유형 ① 인권

뜻	<ul style="list-style-type: none"> • 나이, 성별 등에 관계없이 누구나 사람으로서 존중받고 행복하게 살아갈 권리 • 사람으로서 누구나 마땅히 누려야 할 소중한 권리
특징	사람답게 살기 위하여 필요한 것은 사람이나 상황에 따라 다름.
소중함	<ul style="list-style-type: none"> • 무심코 한 말이나 행동이 상대방에게 상처가 될 수 있음. • 인권을 제대로 고려하여 존중하지 못할 때 학교 폭력 등의 문제가 일어날 수 있음. • 나와 다르다고 해서 차별하는 것은 옳지 않기 때문에 잘못된 편견을 없애야 함.

1 인권의 의미를 바르게 말한 어린이의 이름을 모두 쓰시오.

- 일국: 누구나 마땅히 누려야 할 소중한 권리아.
- 대한: 필요에 따라 남에게 넘겨줄 수 있는 권리아.
- 민국: 사람으로서 존중받고 행복하게 살아갈 권리아.
- 만세: 국가가 여러 사람의 이익을 위하여 빼앗을 수도 있는 권리아.

()

2 오른쪽 사람들의 인권을 보장해 주기 위한 일은 무엇입니까?

()



- ① 공공 주택을 마련해 준다.
- ② 엘리베이터를 설치해 준다.
- ③ 계단을 뛰어다닐 수 있게 해 준다.
- ④ 학교 앞 도로에 횡단보도를 설치해 준다.
- ⑤ 어린이들이 학교에 다닐 수 있게 해 준다.

유형 ② 인권이 존중되는 사회를 만들기 위한 노력

지역 사회와 정부의 노력	버스 안 교통 약자를 위한 배려석, 휠체어로 이동할 수 있는 경사로, 시각 장애인을 위한 점자 블록 설치 등을 함.
캠페인 활동	인터넷 사용자들은 인터넷을 바르게 사용하여 인권을 침해하지 않고 서로 존중하자는 내용의 캠페인을 벌임.
'살색'을 '살구색'으로 바꾼 사례	살색이라는 단어가 피부색이 다른 사람들에 대한 차별이라고 생각하여 국가 인권 위원회를 통해 문제를 해결함.

3 다음 보기에서 가상 공간에서의 인권 침해를 방지하기 위한 노력을 모두 골라 기호를 쓰시오.

보기

- ㉠ 인터넷을 바르게 사용합니다.
- ㉡ 시각 장애인을 위한 점자 블록을 설치합니다.
- ㉢ 버스 안 교통 약자를 위한 배려석을 마련해 줍니다.
- ㉣ 인권을 침해하지 않고 서로 존중하자는 내용의 캠페인을 벌입니다.

()

4 다음 빈칸에 들어갈 알맞은 기관을 쓰시오.

미연: 크레파스의 색깔 중 특정 색깔을 '살색'이라고 표시하는 것은 피부색이 다른 사람들에 대한 차별이야.
 여정: 맞아. 다르게 표시해야 할 것 같아.
 미연: 자, 그럼 어떻게 해야 할까?
 여정: 아, 사회 시간에 ()을/를 통해 해결할 수 있다고 배웠어.

()

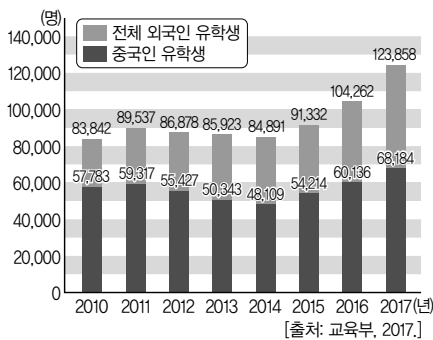
유형 ① 우리나라와 이웃 나라가 교류하는 모습

관광객 수를 통하여 알 수 있는 모습	<ul style="list-style-type: none"> • 중국과 일본에서는 해마다 수백 만 명의 사람들이 우리나라를 찾아옴. • 우리나라를 찾는 러시아 관광객도 늘어나고 있음.
유학생 수를 통하여 알 수 있는 모습	<ul style="list-style-type: none"> • 우리나라에서 공부를 하기 위하여 들어오는 외국인 유학생들이 예전에 비해 많이 늘어났는데, 그중에는 중국인 유학생이 많음. • 우리나라에서 중국으로 유학을 가는 학생들도 많음.
우리나라 교류의 특징	중국과 일본은 우리나라의 주요 무역 상대국이며, 러시아와 우리나라의 교류도 점차 활발해지고 있음.

1 우리나라가 이웃 나라와 교류하는 모습으로 알맞은 것은 어느 것입니까? ()

- ① 러시아와의 교류가 점점 줄어들고 있다.
- ② 우리나라와 일본, 중국의 교류가 활발하다.
- ③ 일본과 러시아는 우리나라의 주요 무역 상대국이다.
- ④ 우리나라에서 중국과 일본을 찾아가는 사람들은 거의 없다.
- ⑤ 우리나라를 찾는 중국과 일본 관광객은 해마다 줄어들고 있다.

2 다음 그래프를 보고 우리나라로 유학 온 외국인 비율이 가장 높은 나라는 어디인지 쓰시오.



▲ 우리나라의 외국인 유학생 수

()

유형 ② 우리나라와 이웃 나라의 갈등 사례

우리나라와 일본의 갈등	일본이 야스쿠니 신사에 제2차 세계대전을 일으킨 전쟁 범죄자들의 이름이 적힌 책을 놓고 참배를 하고 있음.
우리나라와 중국의 갈등	<ul style="list-style-type: none"> • 중국의 역사 왜곡: 중국은 우리나라의 역사인 고조선과 고구려, 발해의 역사를 중국 역사의 일부분이라고 주장하고 있음. • 중국 어선의 불법 조업: 매년 황해에서 중국 어선이 꽃게를 비롯한 각종 물고기를 잡으려고 우리의 영해를 침범하여 갈등을 일으키고 있음. • 이어도 문제: 이어도는 우리나라의 배타적 경제 수역 안에 있는 영역인데, 중국이 자국의 영역에 속한다는 억지 주장을 하고 있음.

3 우리나라가 일본의 야스쿠니 신사 참배에 반대하는 까닭은 무엇입니까? ()

- ① 우리의 과거를 비난하는 것이기 때문에
- ② 우리에게 신사 참배를 강요하기 때문에
- ③ 우리 영토를 침략하려는 뜻이 숨겨져 있기 때문에
- ④ 제2차 세계대전을 일으킨 것을 인정하지 않기 때문에
- ⑤ 우리나라를 침략한 것을 반성하지 않는다는 뜻이기 때문에

4 다음 보기에서 우리나라와 중국의 갈등 문제를 모두 골라 기호를 쓰시오.

보기

- ㉠ 위안부 문제로 갈등을 겪고 있습니다.
- ㉡ 중국 어선들이 우리나라 영해에서 불법으로 물고기를 잡고 있습니다.
- ㉢ 우리나라의 이어도가 중국의 영역에 속한다는 억지 주장을 하고 있습니다.
- ㉣ 고조선과 고구려, 발해의 역사를 중국 역사의 일부분이라고 주장하고 있습니다.

()

유형 ① 자원 교류를 통한 우리나라와 다른 나라의 관계

(1) 우리나라와 서남아시아 지역의 관계

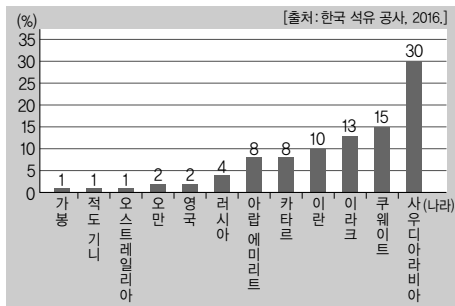
우리나라가 얻는 도움	우리나라는 필요한 석유를 주로 서남아시아 지역에서 수입하고 있음.
우리나라가 주는 도움	우리나라의 뛰어난 기술력으로 초고층 건물 건설, 수로 공사, 신도시 건설 등을 맡아 하며 이들 나라의 발전을 돕고 있음.

(2) 우리나라의 뛰어난 기술력이 다른 나라에 주는 도움

- ① 농업 기술을 가르쳐 줍니다.
- ② 신재생 에너지 개발 기술을 수출합니다.
- ③ 세계 문화유산의 복원 사업에 참여합니다.

1 다음 그래프에서 우리나라가 주로 석유를 수입하는 나라들이 속한 지역은 어디입니까?

()



▲ 우리나라의 석유 수입국

- | | |
|---------|---------|
| ① 유럽 | ② 아프리카 |
| ③ 동남아시아 | ④ 서남아시아 |
| ⑤ 오세아니아 | |

2 우리나라의 뛰어난 기술력을 이용하여 다른 나라의 발전을 도운 경우가 아닌 것은 어느 것입니까?

()

- ① 석유 자원 수입
- ② 수로 공사에 참여
- ③ 신도시 건설에 참여
- ④ 파라과이와의 농업 기술 교류
- ⑤ 캄보디아 앙코르 와트 복원 사업에 참여

유형 ② 인적 교류를 통한 우리나라와 다른 나라의 관계

외국인이 우리나라를 방문하는 목적	자연환경 체험, 의료 시설 이용, 물건 구입, 학문·기술 습득, 문화 체험 등
우리나라 사람들이 다른 나라를 방문하는 목적	<ul style="list-style-type: none"> • 우리나라의 문화를 여러 나라에 알리기 • 다른 나라에 만든 공장이나 회사 운영 • 서로 다른 자연환경과 문화를 경험하는 여행 • 의료 정보 기술 시스템의 수출 • 해외의 우수한 학문·기술 습득


3 동남아시아 관광객들이 우리나라의 스키장을 찾는 이유로 알맞지 않은 것은 어느 것입니까?

()

- ① 겨울을 체험하기 위해서
- ② 비교적 가까운 위치에 있기 때문에
- ③ 동남아시아는 열대 기후이기 때문에
- ④ 동남아시아에는 눈이 내리지 않기 때문에
- ⑤ 동남아시아와 우리나라의 자연환경이 비슷하기 때문에

4 우리나라 사람들이 다른 나라를 방문하는 목적 중 다음 사진과 관련된 것은 어느 것입니까?

()



- ① 우리의 문화를 알리기 위하여
- ② 외국의 학문을 배우기 위하여
- ③ 정보 기술 시스템을 수출하기 위하여
- ④ 다른 나라의 문화를 경험하기 위하여
- ⑤ 다른 나라에 만든 공장이나 회사를 운영하기 위하여

유형 1 세계화의 의미와 양면성

(1) 세계화의 의미: 지구촌의 여러 나라 사람들이 서로 가깝게 연결되어 긴밀한 영향을 주고받는 것을 말합니다.

(2) 세계화의 양면성

긍정적인 측면	<ul style="list-style-type: none"> • 각 나라의 독특한 인문 환경과 자연환경의 특징을 살려 활발한 경제 교류를 함으로써 서로 도움을 주고받음. • 환경 오염, 전쟁, 인종 차별, 종교 갈등과 같은 지구촌 문제들을 함께 해결하기도 함.
부정적인 측면	<ul style="list-style-type: none"> • 한 나라의 경제 위기가 다른 여러 나라의 경제에 악영향을 줌. • 세계 경제와 정치가 일부 선진국 중심으로 좌우된다는 비판을 받고 있음.

1 다음과 관계 깊은 것은 무엇인지 쓰시오.

- 세계 여러 나라는 식품 하나, 옷 한 벌을 만들 때에도 서로 교류하며 협력합니다.
- 지구촌의 여러 나라 사람들이 서로 가깝게 연결되어 긴밀한 영향을 주고받는 것을 말합니다.

()

2 다음 보기에서 세계화로 인한 긍정적인 측면을 모두 골라 기호를 쓰시오.

보기

- ㉠ 각 나라 간 활발한 경제 교류로 이익을 얻습니다.
- ㉡ 지구촌 문제들을 세계 여러 나라가 함께 해결합니다.
- ㉢ 한 나라의 경제 위기가 다른 나라의 경제에 악영향을 줍니다.
- ㉣ 세계화 과정에서 개발 도상국들의 입장이 경시되는 경우가 있습니다.

()

유형 2 각 분야별 세계화 모습

경제적 측면	세계 여러 나라는 자유 무역 협정(FTA)을 맺어 세금 등 무역 장벽을 없애거나 낮추고 있음.
정치적 측면	지구촌 문제들을 여러 나라가 정치적으로 협력하여 해결하고자 노력함.
문화적 측면	<ul style="list-style-type: none"> • 여러 나라의 문화가 결합되어 새로운 문화가 탄생함. • 각 나라의 고유한 문화가 사라지고 특정 문화가 전 세계에 나타나기도 함.

3 다음 보기에서 자유 무역 협정과 관계 깊은 설명을 모두 골라 기호를 쓰시오.

보기

- ㉠ 식품의 가격이 낮아졌습니다.
- ㉡ 수입한 물건들의 가격은 매우 비쌉니다.
- ㉢ 소를 힘들게 키워도 제값을 못 받고 있습니다.
- ㉣ 자유 무역 협정을 맺은 나라끼리는 수입품에 붙이는 세금을 없애거나 낮추었습니다.

()

4 다음 신문 기사와 관련된 세계화의 분야는 무엇입니까? ()

○○신문 2000년 ○월 ○일

한국식 치킨, 세계 여러 나라에서 인기

한국식 치킨이 세계 곳곳에서 큰 사랑을 받고 있다. 홍콩의 한 언론은 “손을 뿔 수 없는 한국식 치킨”이라고 보도했으며, 영국 언론에서도 ‘한국식 치킨 극찬’이라는 제목으로 “한 번 맛보면 정신이 혼미해질 위험이 있다.”라고 보도하였다. 또, 미국의 유명 잡지도 한국식 치킨 음식점을 소개하는 기사를 실었다.

- ㉠ 경제 ㉡ 문화 ㉢ 정치
- ㉣ 환경 ㉤ 행정

실전 서술형·논술형 문제

1-① 우리 생활과 민주 정치

1 다음과 같이 법이 사회의 변화에 맞지 않거나 제 역할을 하지 못할 경우 어떻게 해야 하는지 쓰시오.

우리는 누구나 성과 이름을 가지고 있습니다. 성은 당연히 아버지의 것을 따라야 한다고 알고 있습니다. 그러나 이것이 남녀 평등에 맞지 않는다고 하여 법을 바꾸었습니다. 아버지의 성을 따르는 것을 원칙으로 하지만 부모가 의논하여 자녀가 어머니의 성을 따를 수도 있도록 하였습니다.

2 다음 글을 읽고, 물음에 답하시오.

- ㉠ 대한민국의 주권은 국민에게 있고, 모든 권력은 국민으로부터 나온다.
- 대한민국의 영토는 한반도와 그 부속 도서로 한다.
- 대한민국은 통일을 지향하며, 자유 민주적 기본 질서에 입각한 평화적 통일 정책을 수립하고 이를 추진한다.
- 모든 국민은 인간으로서의 존엄과 가치를 가지며, 행복을 추구할 권리를 가진다.

(1) 윗글과 같은 내용을 담고 있는 법은 무엇인지 쓰시오.
()

(2) 윗글의 밑줄 친 ㉠에 담긴 의미는 무엇인지 쓰시오.

1-② 국가의 일을 맡아 하는 기관들

3 다음 장소에서 하는 일을 한 가지만 쓰시오.

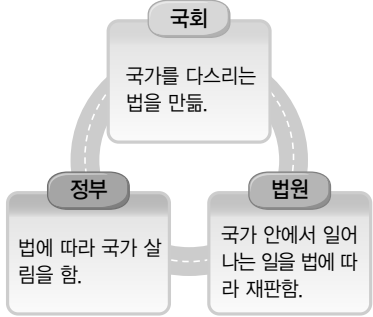


▲ 국회 의사당

4 우리나라에서 다음과 같은 제도를 마련하고 있는 까닭은 무엇인지 쓰시오.

- 한 사건에 대하여 원칙적으로 세 번까지 재판을 받을 수 있습니다.
- 법관이 헌법과 법률에 의해 양심에 따라 독립하여 심판하도록 하고 있습니다.

5 다음과 같이 서로 다른 국가 기관들이 국가의 힘과 역할을 나누어 가질 때 일어나는 일을 쓰시오.



실전 서술형·논술형 문제

1-③ 국민의 권리와 의무

6 다음과 같은 국민의 권리가 중요한 까닭은 무엇인지 쓰시오.

- 직업 등 모든 생활 영역에서 자유롭게 활동할 수 있는 권리
- 누구든지 성별, 종교 또는 사회적 신분에 의하여 차별받지 않을 권리
- 인간다운 생활을 할 수 있는 권리를 가지며, 능력에 따라 균등한 교육을 받을 수 있는 권리
- 누구나 국가 정책이나 정치에 참여할 수 있는 권리
- 기본권을 보장받기 위하여 국가에 대해 일정한 청구를 할 수 있는 권리

7 다음과 같이 사람들이 주장하는 권리가 충돌할 때, 이를 해결하는 방법은 무엇인지 쓰시오.



8 다음 사례에 해당하는 국민의 의무와 그 의미를 쓰시오.

민지는 아버지와 함께 쓰레기를 분류하여 배출하였습니다.




(1) 국민의 의무: ()

(2) 의미: _____

1-④ 행복한 삶과 인권

9 다음 그림에서 사람답게 살기 위하여 필요한 것을 어떻게 해결하였는지 쓰시오.



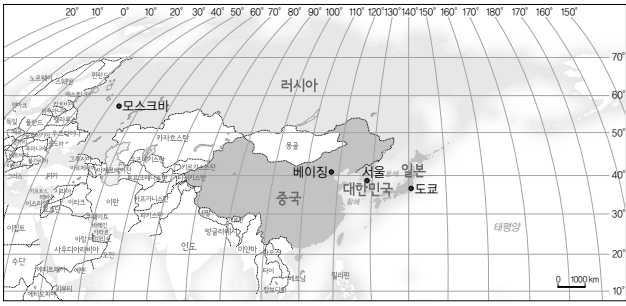
10 다음과 같은 경우 학생들의 인권을 보장하기 위해 학교나 정부에서 해야 할 일을 쓰시오.



실전 서술형·논술형 문제

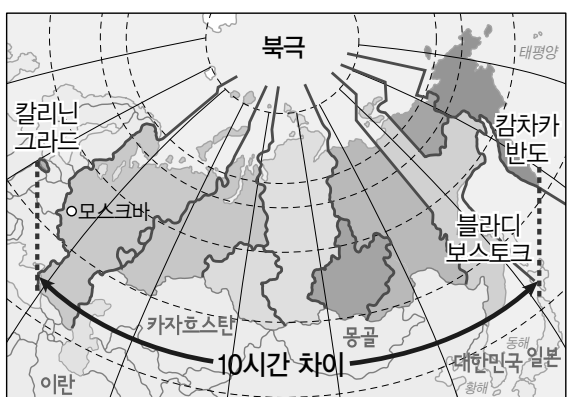
2-① 우리와 가까운 나라의 모습

1 다음 지도를 보고, 물음에 답하십시오.



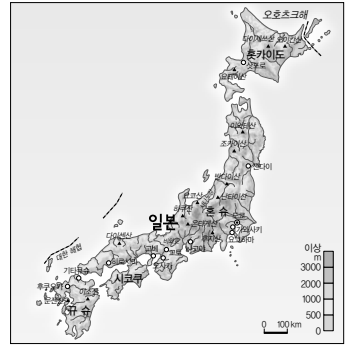
- (1) 위 지도에서 위도와 경도를 이용하여 중국의 위치를 쓰시오.
()
- (2) 위 지도를 보고, 중국 영토의 크기를 우리나라와 비교하여 쓰시오.

2 다음 지도와 같이 러시아의 동쪽 끝과 서쪽 끝이 10시간 차이가 나는 까닭은 무엇인지 쓰시오.



▲ 러시아의 시간대

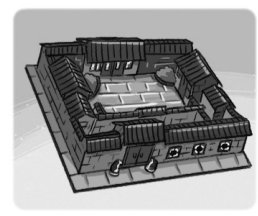
3 다음 지도를 보고 알 수 있는 일본의 지형적 특징을 한 가지만 쓰시오.



4 일본에서 지진이 많이 일어나는 까닭을 쓰시오.

2-② 우리와 가까운 나라의 문화

5 다음 그림을 보고, 물음에 답하십시오.

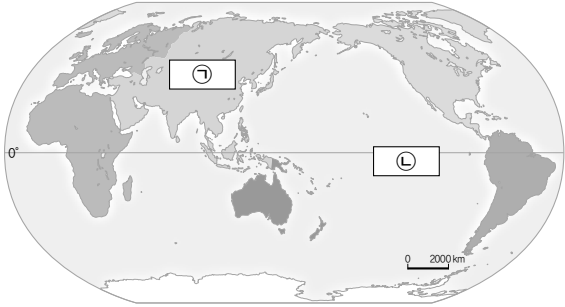


- (1) 위와 같은 중국의 전통적인 집 형태를 무엇이라고 하는지 쓰시오.
()
- (2) 위 (1)번에서 답한 집의 구조를 쓰시오.

실전 서술형·논술형 문제

3-① 세계 여러 나라의 모습

1 다음 지도를 보고, 물음에 답하십시오.



(1) 위 ㉑ 대륙과 ㉒ 대양의 이름을 쓰시오.
 ㉑: (), ㉒: ()

(2) 위 (1)번에서 답한 대륙과 대양의 특징을 크기와 관련하여 각각 쓰시오.

2 다음 지구본을 보고, 물음에 답하십시오.



(1) 위 지구본에 표시된 나라의 이름을 쓰고, 위치적 특징을 한 가지만 쓰시오.

(2) 위와 같이 지구본을 이용하여 나라의 위치와 영역을 나타낼 때의 장점을 쓰시오.

3 다음은 진희네 모둠이 세계 여러 나라의 크기와 모양에 대하여 나눈 대화입니다. 잘못된 내용을 찾아 기호를 쓰고, 바르게 고쳐 쓰시오.

- 진희: ㉑ 인도네시아는 많은 섬으로 이루어진 섬나라야.
- 정은: ㉒ 이탈리아의 영토 모양은 장화와 닮았어.
- 광희: ㉓ 칠레는 남북의 길이가 세계에서 가장 긴 나라야.
- 동준: ㉔ 캐나다는 세계에서 가장 큰 나라이고, 러시아는 두 번째로 큰 나라야. ㉕ 세계에서 가장 작은 나라는 바티칸이지.

(1) 잘못된 내용: ()

(2) 고쳐 쓴 내용: _____

3-② 세계의 다양한 문화

4 다음 글을 읽고, 여자아이가 화를 낸 까닭을 무엇인지 쓰시오.

어머니와 함께 길을 걸던 중 이슬람 문화권의 여자아이가 우리를 불러 돌아보니 어머니의 지갑을 들고 있었다. 어머니께서 지갑을 떨어뜨리는 것을 보고 주워 준 것이다. 너무 고마워 어머니께서 머리를 쓰다듬자 여자아이는 크게 화를 냈다. 어머니와 나는 무척 당황스러웠다.

5 다음 글을 읽고, 우리와 다른 문화를 대할 때 필요한 태도는 무엇인지 쓰시오.

같은 몸짓에 담긴 다양한 의미

- 우리는 ‘최고다, 매우 좋다.’라는 의미로 엄지손가락을 들어 보이지만 아프리카의 몇몇 지역과 그리스에서는 이 몸짓이 심한 욕을 뜻하기도 합니다.
- 손바닥을 아래로 향하고 까딱이는 몸짓은 우리나라를 비롯한 아시아 지역에서는 ‘이쪽으로 오라.’라는 뜻이지만 유럽과 아메리카 지역에서는 ‘가라.’라는 뜻으로 사용됩니다.

3-㉓ 우리나라와 세계 여러 나라의 관계

6 다음은 우리나라와 서남아시아 지역의 관계에 대하여 정리한 표입니다. 빈칸에 들어갈 알맞은 내용을 간단히 쓰시오.

서남아시아 지역이 우리나라에 주는 도움	우리나라는 필요한 석유를 서남아시아 지역에서 주로 수입하고 있습니다.
우리나라가 서남아시아 지역에 주는 도움	

7 다음 글을 읽고, 물음에 답하십시오.

2018년 평창 동계 올림픽 개최가 확정된 이후, 강원도를 찾는 외국인 관광객이 증가하고 있습니다. 강원도는 동남아시아 관광객을 대상으로 외국인 겨울 관광 상품을 개발하여 알리고 있으며, 해마다 참가자가 늘고 있습니다.

(1) 윗글을 통해 짐작할 수 있는 동남아시아 지역의 기후적 특징을 쓰시오.

(2) 동남아시아 사람들이 윗글과 같이 우리나라로 스키 관광을 오는 까닭은 무엇인지 쓰시오.

8 다음 사진을 보고, 우리나라와 다른 나라 사이에 사람들이 교류하는 까닭을 두 가지 쓰시오.



▲ 서로 다른 자연환경 경험



▲ 해외의 우수한 학문 습득

실전 서술형·논술형 문제

4-① 우리가 만들어 가는 미래 사회


1 다음 (가), (나)와 같은 과학 기술의 발달이 우리 생활에 끼치는 영향을 각각 쓰시오.



(가): _____

(나): _____

2 다음 사진을 보고, 물음에 답하시오.



(1) 재료를 겹겹이 쌓아 올려 원하는 모양을 만들어 내는 위 기계의 이름을 쓰시오.
 ()

(2) 위 (1)번에서 답한 기계의 좋은 점과 문제점을 각각 한 가지씩 쓰시오.

좋은 점	
문제점	

3 다음 사례를 통하여 알 수 있는 정보 사회의 특징은 무엇인지 쓰시오.

〈영월 여행하기〉

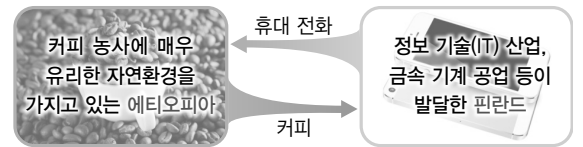
▲ 지역을 정하여 관심 있는 장소와 볼거리를 인터넷으로 검색하기

구분	열차번호	출발역	도착역	역순	일련번호
직통	1633	원주	영월	원주→영월	1633001
		10:17	11:38	1633002	1633004
직통	1635	원주	영월	원주→영월	1635001
		13:20	14:48	1635002	1635004
직통	1637	원주	영월	원주→영월	1637001
		15:15	16:27	1637002	1637004
직통	1639	원주	영월	원주→영월	1639001
		17:20	18:30	1639002	1639004

▲ 열차 노선도 확인하기 ▲ 열차표 예매하기

4-② 세계화의 모습과 우리의 역할

4 다음 자료를 보고, 물음에 답하시오.



(1) 위 자료와 관계 깊은 세계화의 분야는 무엇인지 쓰시오.
 ()

(2) 위 자료를 보고 알 수 있는 세계화의 긍정적인 측면은 무엇인지 쓰시오.

5 다음 내용을 통해 알 수 있는 세계화의 부정적인 측면은 무엇인지 쓰시오.

브라질 정부는 자국의 발전을 위하여 아마존강 유역을 개발하면서 밀림을 파괴하고 있습니다. 그래서 선진국들은 지구 전체의 환경을 위하여 브라질 정부의 개발을 반대하고 있습니다. 브라질 정부는 선진국들의 개발로 오늘날 환경이 파괴된 것이라고 지적하며, 브라질과 같은 개발 도상국은 개발을 해야만 살 수 있다고 주장하고 있습니다.

6 다음 신문 기사를 통해 알 수 있는 세계화의 특징은 무엇인지 쓰시오.

□□ 신문 2000년 ○월 ○일


한국식 치킨, 세계 여러 나라에서 인기

한국식 치킨이 세계 곳곳에서 큰 사랑을 받고 있다. 홍콩의 한 언론은 “손을 뿔 수 없는 한국식 치킨”이라고 보도하였으며, 영국 언론에서도 ‘한국식 치킨 극찬’이라는 제목으로 “한 번 맛보면 정신이 혼미해질 위험이 있다.”라고 보도하였다. 또, 미국의 유명 잡지도 한국식 치킨 음식점을 소개하는 기사를 실었다.

4-㉓ 함께 해결하는 지구촌 문제

7 다음 내용에서 밑줄 친 ‘사막화’로 인해 입는 피해를 한 가지만 쓰시오.

몽골은 지구 온난화로 국토의 대부분이 사막화되었고, 이에 따라 황사 피해도 심각해지고 있습니다. 이로 인해 몽골의 강 900여 개, 호수 1200여 개, 샘 2100여 개가 말라 없어졌습니다.



8 오른쪽 마크가 나타내는 국제 연합 소속 기구의 이름과 그 곳에서 하는 일을 쓰시오.



(1) 이름: ()

(2) 하는 일: _____

9 다음과 같은 지구촌 문제를 해결하기 위하여 우리가 실천할 수 있는 일을 쓰시오.

- 시에라리온에는 연필이 없어 공부를 하지 못하는 아이들이 있습니다.
- 아프리카에서는 낮과 밤의 기온 차가 커서 저체온증으로 죽는 아이들이 많습니다.

중간 학력평가

1-① 우리 생활과 민주 정치 ~
2-③ 우리나라와 이웃 나라의 교류

1 국가가 다음의 문제를 해결해 가는 활동을 무엇이라고 합니까? ()

‘국민들이 낸 세금을 어디에, 얼마나 사용할 것인가?’

- ① 문화 ② 정치 ③ 사회
④ 역사 ⑤ 경제

2 다음과 같은 역할을 하는 것은 무엇인지 쓰시오.

- 사람들이 편안하고 행복한 삶을 누릴 수 있도록 도와줍니다.
- 사람들 사이에서 일어나는 갈등을 해결하여 사회 질서를 유지합니다.

()

3 우리나라 헌법에 나타나 있는 조항으로 알맞지 않은 것은 어느 것입니까? ()

- ① 모든 국민은 법 앞에 평등하다.
② 대한민국의 모든 권력은 대통령으로부터 나온다.
③ 대한민국의 영토는 한반도와 그 부속 도서로 한다.
④ 모든 국민은 법률이 정하는 바에 의하여 선거권을 가진다.
⑤ 대한민국은 통일을 지향하며, 자유 민주적 기본 질서에 입각한 평화적 통일 정책을 수립하고 이를 추진한다.

4 다음 빈칸에 들어갈 알맞은 사람은 누구입니까? ()

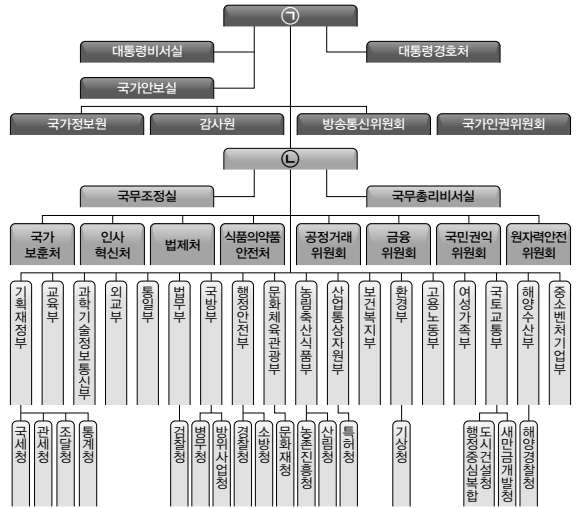
모든 국민이 국가의 일을 결정하는 데 직접 참여하기 어렵기 때문에 우리나라는 국민의 대표가 되어 국가의 일에 참여하는 ()을/를 뽑습니다.

- ① 장관 ② 판사 ③ 공무원
④ 변호인 ⑤ 국회 의원

5 오른쪽 사진과 관련된 기관이 하는 일을 한 가지만 쓰시오.



6 다음은 우리나라의 정부 조직도입니다. ㉠, ㉡에 들어갈 알맞은 사람을 각각 쓰시오.



(2018년 3월 기준)

㉠: (), ㉡: ()

7 다음 사례와 관련된 국민의 권리는 무엇입니까? ()

지민이 아버지께서는 국회 의원 선거에 출마하여 국회 의원에 당선되었습니다.

- ① 최소한의 생활 수준을 보장해 줄 권리
② 능력에 따라 균등한 교육을 받을 권리
③ 누구나 국가 정책이나 정치에 참여할 수 있는 권리
④ 성별, 종교 또는 사회적 신분에서 차별받지 않을 권리
⑤ 기본권을 보장받기 위하여 국가에 대해 일정한 청구를 할 수 있는 권리

8 다음과 같은 활동을 할 수 있는 이유와 관련된 국민의 의무는 무엇입니까? ()

백현이는 친구들과 함께 학교에 다니고, 주말에는 가족들과 함께 공원을 이용하며 공공 도서관과 박물관 등도 즐겨 찾고 있습니다. 이렇게 백현이가 즐겨 찾는 시설들은 국민의 편의와 행복을 위하여 국가에서 세금을 거두어 만들고 운영합니다.

- ① 교육의 의무 ② 근로의 의무
- ③ 국방의 의무 ④ 납세의 의무
- ⑤ 환경 보전을 위하여 노력할 의무

9 다음 그림 속 친구가 학교생활에서 겪는 어려움을 해결할 수 있는 방법을 쓰시오.



10 인권이 존중되는 사회를 만들기 위한 노력으로 알맞지 않은 것은 어느 것입니까? ()

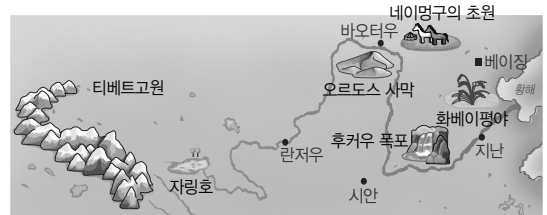
- ① 시각 장애인을 위한 박물관 전시
- ② 버스 안 교통 약자를 위한 배려석 설치
- ③ 인터넷상에서의 인권 존중 캠페인 활동
- ④ 주택과 상점이 한 건물 안에 있는 주상 복합 아파트 건설
- ⑤ 국가 인권 위원회의 활동을 통한 크레파스 색깔 중 살구색 명칭 확정

11 다음 (가)~(다)에 해당하는 나라를 바르게 짝지은 것은 어느 것입니까? ()

- (가) 한반도 전체 넓이의 약 44배로, 유럽 전체의 넓이와 비슷합니다.
- (나) 한반도 전체 넓이의 약 78배로, 세계에서 영토가 가장 넓은 나라입니다.
- (다) 한반도 전체 넓이의 약 1.5배로, 주변이 모두 바다로 둘러싸인 섬나라입니다.

	(가)	(나)	(다)
①	일본	중국	러시아
②	중국	일본	러시아
③	중국	러시아	일본
④	러시아	중국	일본
⑤	러시아	일본	중국

12 다음 지도와 같은 다양한 지형을 볼 수 있는 나라는 어디입니까? ()



- ① 중국 ② 일본 ③ 대만
- ④ 러시아 ⑤ 대한민국

13 일본의 지형적 특징으로 알맞은 것은 어느 것입니까? ()

- ① 해안선이 단조롭다.
- ② 국토의 대부분이 평야이다.
- ③ 화산이 많아 온천이 발달하였다.
- ④ 주변이 모두 땅으로 둘러싸여 있다.
- ⑤ 알프스·히말라야 지진대에 속해 있다.



14 다음 나라들과 국경을 접하고 있는 나라는 어디인지 쓰시오.

우리나라, 노르웨이, 핀란드, 에스토니아, 라트비아, 벨라루스, 우크라이나, 조지아, 아제르바이잔, 카자흐스탄, 중국, 몽골까지 12개의 나라와 국경을 접하고 있습니다.

()

15 다음 문화와 관련된 나라는 어디입니까? ()

• 한자 • 우슈 • 사합원 • 4대 요리

- ① 중국 ② 일본 ③ 몽골
- ④ 러시아 ⑤ 우리나라

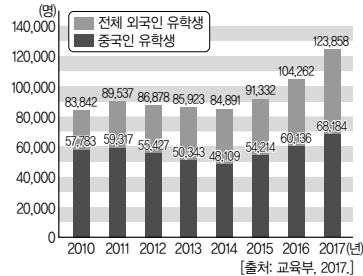
16 다음 세 나라의 식생활에서 나타나는 공통점을 한 가지만 쓰시오.

• 중국 • 일본 • 우리나라

17 일본의 오봉에 대한 설명으로 바르지 않은 것은 어느 것입니까? ()

- ① 차례를 지내고 성묘를 한다.
- ② 봉오도리 등의 놀이를 즐긴다.
- ③ 우리나라의 추석과 날짜가 같다.
- ④ 채소를 위주로 한 음식을 먹는다.
- ⑤ 우리나라의 추석과 같은 의미를 지닌 날이다.

18 다음은 우리나라의 외국인 유학생 수를 나타낸 그래프입니다. 중국인 유학생 수가 가장 많은 해는 언제입니까? ()



- ① 2013년
- ② 2014년
- ③ 2015년
- ④ 2016년
- ⑤ 2017년

19 다음 신문 기사와 같은 노력을 하고 있는 까닭은 무엇입니까? ()

○○ 신문 20○○년 ○월 ○일

2002년 우리나라의 ○○ 단체에서 중국 네이멍구고원 주변의 사막에 나무를 심고 물을 주며 돌보기 시작하였다. 이제 나무들은 잘 자라 숲을 이루었고, 이 사업은 한·중 협력 사업으로 확대되었다.

- ① 황사의 피해를 줄이기 위하여
- ② 한국과 중국의 기술 협력을 위하여
- ③ 중국에 우리나라의 영토를 만들기 위하여
- ④ 한국, 중국, 일본의 역사 관련 갈등을 줄이기 위하여
- ⑤ 중국과 우리나라가 경제적으로 협력 관계를 맺기 위하여

20 다음 신문 기사의 밑줄 친 '이 나라'는 어디입니까? ()

○○ 신문 20○○년 ○월 ○일

야스쿠니 신사 참배를 규탄한다!

우리 정부는 이 나라 장관들과 정치인들이 지속적으로 야스쿠니 신사 참배를 이어 가고 있는 데에 대해 심각한 유감의 뜻을 밝혔다.

- ① 중국 ② 일본 ③ 몽골
- ④ 러시아 ⑤ 베트남

8 다음 사례들의 공통점을 우리나라와 다른 나라와의 관계와 관련지어 쓰시오.



▲ 우리나라가 도시 건설에 참여한 사우디아라비아의 수도 리야드



▲ 우리나라가 리비아의 수도 공사에 참여

9 다음과 같은 역할을 하는 우리나라의 상품은 무엇입니까? ()

- 동아시아에 한정되어 있던 한류를 서남아시아, 아프리카, 유럽 등으로 확산시켰습니다.
- 한글, 음식, 역사에 이르기까지 우리 문화를 널리 알리는 역할을 톡톡히 하고 있습니다.

- ① 드라마 ② 냉장고
- ③ 텔레비전 ④ 휴대 전화
- ⑤ 극세사 담요

10 오른쪽 사진에 나타난 외국인이 우리나라를 방문한 목적은 무엇입니까?



()

- ① 물건을 사기 위하여
- ② 문화를 체험하기 위하여
- ③ 의료 시설을 이용하기 위하여
- ④ 학문·기술을 습득하기 위하여
- ⑤ 우리나라에 만든 공장을 운영하기 위하여

11 다음과 같은 활동이 가능해진 까닭은 무엇입니까? ()

- 무인기가 집 앞까지 주문한 상품을 배달해 줍니다.
- 스마트폰 대화 서비스로 친구들과 대화를 나눕니다.

- ① 농업 사회로 변화했기 때문에
- ② 과학 기술이 발달하였기 때문에
- ③ 사람들 사이의 교류가 줄어들었기 때문에
- ④ 과학 기술의 안 좋은 점이 많아졌기 때문에
- ⑤ 개인의 인권을 존중하려는 노력이 계속되었기 때문에

12 다음 농산물에 사용된 과학 기술은 무엇인지 쓰시오.



▲ 좀나방 저항성 양배추

()

13 정보 사회의 특징으로 알맞지 않은 것은 어느 것입니까? ()

- ① 힘을 가진 소수의 사람이 정보를 독점하는 사회이다.
- ② 기존의 정보를 활용하여 새로운 정보를 만드는 사회이다.
- ③ 인터넷 검색, 온라인 백과사전 등 다양한 정보 사례가 있다.
- ④ 사람들이 서로 소통하면서 가치 있는 정보를 찾아 공유하는 사회이다.
- ⑤ 사람들이 함께 나누고 공유하는 과정을 통하여 더 정확한 정보를 만들 수 있다.

14 다음 신문 기사에 나타난 정보 사회의 문제 점은 무엇입니까? ()

○○ 신문 20○○년 ○월 ○일
초·중·고교생이 학교 과제를 작성할 때 표절이 성행하고 있다. 인터넷에 질문을 올리고 답변을 구해 과제로 제출하거나 들머리(포털) 사이트 등에서 검색한 뒤 출처를 적지 않은 채 제출하는 일이 빈번하다.

- ① 저작권 침해 ② 스마트폰 중독
- ③ 불법 내려받기 ④ 상황 관찰기 문제
- ⑤ 누리 소통망 서비스를 통한 학교 폭력

15 다음 사례를 통해 알 수 있는 세계화의 특징을 쓰시오.

• 우리나라에서 만든 과자 한 봉지에는 여러 나라에서 생산된 재료들이 들어가 있습니다.
• 영국의 축구팀 유니폼 한 벌을 만들기 위하여 독일, 미국, 베트남, 미얀마 등 여러 나라가 협력하고 있습니다.

16 다음은 세계화에 대하여 설명한 글입니다. 바르지 않은 부분을 찾아 기호를 쓰시오.

세계 여러 나라는 세계화를 통하여 ㉠ 각 나라의 인문 환경과 자연환경의 특징을 살려 활발한 경제 교류를 함으로써 서로 도움을 주고받습니다. 또 ㉡ 환경 오염, 전쟁, 인종 차별 등과 같은 지구촌 문제들을 함께 해결하기도 합니다. 하지만 ㉢ 세계 경제와 정치가 일부 개발 도상국 중심으로 좌우된다는 비판을 받기도 합니다.

()

17 오늘날 문화의 다양성이 사라지고 있는 사례로 알맞지 않은 것은 어느 것입니까? ()

- ① 식후에 커피를 마시는 일본 사람들
- ② 서양식 의복을 입고 생활하는 중국 사람들
- ③ 제사상을 차리고 절을 하며 제사를 지내는 한국 사람들
- ④ 신랑은 턱시도, 신부는 웨딩드레스를 입은 브라질 결혼식 모습
- ⑤ 유럽의 팝송과 비슷한 음악을 즐겨 듣는 사우디아라비아 사람들

18 다음과 같은 지구촌 문제에 큰 영향을 끼친 것은 무엇입니까? ()

몽골 지역의 사막화와 황사 피해가 심각해져 몽골의 강 900여 개, 호수 1200여 개, 샘 2100여 개가 말라 없어졌습니다.

- ① 태풍 ② 전쟁 ③ 눈사태
- ④ 전염병 ⑤ 지구 온난화

19 전 세계 모든 사람들이 최고의 건강 수준에 도달하는 것을 목적으로 하는 국제기구 는 무엇입니까? ()

- ① 유니세프 ② 유네스코
- ③ 그린피스 ④ 세계 보건 기구
- ⑤ 한국 국제 협력단

20 다음 그림과 같은 활동을 하는 비정부 기구는 무엇입니까? ()



- ① 해비타트 ② 그린피스
- ③ 굿네이버스 ④ 푸른 아시아
- ⑤ 국경 없는 의사회

기말 학력평가

1 우리나라의 민주 정치 ~
4 변화하는 세계 속의 우리

1 다음 빈칸에 들어갈 알맞은 숫자는 무엇입니까? ()

헌법 재판소에는 9명의 재판관이 있는데, 법률이 헌법에 맞지 않는다는 결정을 내릴 때에는 재판관 ()명 이상이 찬성을 해야 합니다.

- ① 2 ② 3 ③ 4
④ 5 ⑤ 6

2 국회가 다음과 같은 일을 하는 까닭을 쓰시오.

- 국민을 위한 법을 만들고, 법을 바꾸거나 없애기도 합니다.
- 정부가 예산안을 잘 짰는지, 예산을 적절히 사용했는지를 꼼꼼하게 따져 봅니다.

3 다음과 같은 활동을 하는 기관은 어디입니까? ()

법에 따라 국가 살림을 하고, 대통령은 국회에서 결정되어 보내진 법률안을 다시 의논하도록 요구할 수 있습니다.

- ① 법원 ② 정부 ③ 경찰서
④ 소방서 ⑤ 헌법 재판소

4 다음에서 설명하는 국민의 의무는 무엇인지 쓰시오.

자녀에게 적어도 초등 교육과 법률이 정하는 교육을 받게 할 의무입니다.

()

5 세계 인권 선언에 대한 설명으로 바르지 않은 것은 어느 것입니까? ()

- ① 전 세계 사람들이 평화롭게 살아가기 위한 방법이 담겨 있다.
② 제2차 세계 대전 후 1948년에 국제 연합 총회에서 발표하였다.
③ 세계 인권의 날이 지정되어 세계 인권 선언이 발표된 것을 기념하고 있다.
④ 자신의 인권을 보장받기 위해 다른 사람의 권리와 자유를 빼앗는 것을 인정하였다.
⑤ 여성, 어린이, 소수 민족의 권리를 보장해야 한다는 생각이 널리 퍼지는 데 영향을 주었다.

6 다음 보기에서 우리나라와 가까운 나라의 기후적 특징으로 바른 것을 모두 골라 기호를 쓰시오.

보기

- ㉠ 일본은 태풍의 영향을 많이 받습니다.
㉡ 일본은 1년 내내 기온이 높고 건조합니다.
㉢ 러시아에는 세계에서 가장 추운 마을이 있습니다.
㉣ 중국은 위도의 차이가 크기 때문에 지역에 따라 다양한 기후가 나타납니다.

()

7 오른쪽 사진과 같은 지형에 대한 설명으로 바른 것은 어느 것입니까?

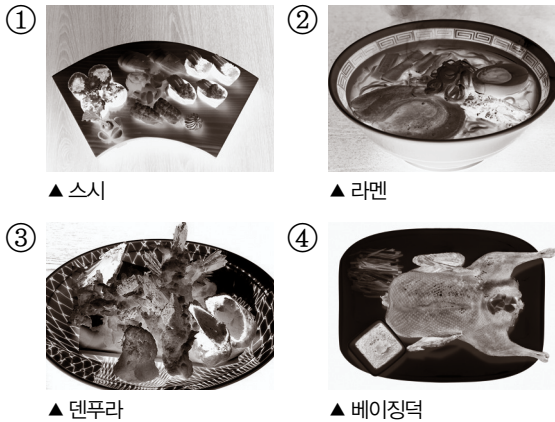


▲ 황해강 상류의 자령호

- ① 해발 고도가 높은 곳에 있는 벌판
② 사방이 모래벌판으로 이루어진 지형
③ 평평한 땅에 풀이 많이 나 있는 지형
④ 주위가 땅으로 둘러싸여 물이 괴어 있는 곳
⑤ 물이 높은 곳에서 아래쪽으로 떨어지는 지형

8 다음에서 설명하는 일본의 대표적인 음식은 무엇입니까? ()

돼지 뼈를 삶은 국물에 면을 넣고 끓인 뒤 양념을 얹어서 먹는 음식입니다.



9 다음 표에 나타난 날을 즐기는 나라와 그 날을 바르게 짝 지은 것은 어느 것입니까? ()

시기	음력 8월 15일
하는 일	달에게 제사 지내기
음식	월병
놀이	달맞이, 등놀이 등

- ① 일본 - 오봉 ② 중국 - 춘절
③ 중국 - 중추절 ④ 우리나라 - 추석
⑤ 러시아 - 성 드미트리 토요일

10 다음과 같은 효과를 가져올 수 있는 도로의 이름을 쓰시오.

- 우리나라는 유럽과 지금보다 더 많은 교류를 할 수 있습니다.
- 비행기나 배를 타지 않고 자동차로 러시아나 중국을 지나 유럽, 동남아시아, 인도 등으로 여행을 갈 수 있게 됩니다.

()

11 다음에서 설명하는 대륙에 있는 나라는 어디입니까? ()

아시아 다음으로 큰 대륙입니다.

- ① 미국 ② 폴란드
③ 브라질 ④ 소말리아
⑤ 뉴질랜드

12 지구본에 대한 설명으로 바르지 않은 것은 어느 것입니까? ()

- ① 한눈에 전 세계를 보기 어렵다.
② 대륙이나 바다의 모양, 거리가 실제와 달라진다.
③ 비교적 정확하게 세계 여러 나라의 위치, 거리, 면적 등을 표현하고 있다.
④ 지구 표면 위에 있는 두 지점 사이의 가장 짧은 거리인 대권 항로를 찾을 수 있다.
⑤ 실제 지구의 모습을 아주 작게 줄여서 지구와 비슷한 모양으로 만든 것이다.

13 아프리카를 다음 밑줄 친 부분과 같이 평가할 수 있는 까닭을 한 가지만 쓰시오.

‘아프리카’하면 배고픔과 질병에 시달리는 사람들의 모습이나 다양한 야생 동물들이 뛰어다니는 모습을 쉽게 떠올릴 것입니다. 그러나 이러한 모습은 일부에 불과하며, 아프리카는 발전 가능성이 큰 지역입니다.



14 다음과 같은 문화를 가지고 있는 문화권은 어디입니까? ()

머리에 손을 대는 것은 영혼을 빼앗아 간다고 믿어 머리를 쓰다듬는 행동을 하지 말아야 하고, 여자들은 차도르라는 천을 쓰고 다닙니다.

- ① 불교 문화권 ② 유교 문화권
- ③ 힌두 문화권 ④ 기독교 문화권
- ⑤ 이슬람 문화권

15 우리나라 사람들이 다른 나라를 방문하는 목적 중 오른쪽 사진과 관계된 것은 무엇입니까? ()



- ① 다른 나라에서 공장을 운영하기 위하여
- ② 의료 정보 기술 시스템을 수출하기 위하여
- ③ 해외의 우수한 학문·기술을 습득하기 위하여
- ④ 우리나라의 문화를 여러 나라에 알리기 위하여
- ⑤ 서로 다른 자연환경과 문화를 경험하기 위하여

16 다음 사례를 통해 알 수 있는 과학 기술의 특징은 무엇인지 쓰시오.

3차원(3D) 프린터는 물건을 입체적으로 만들어 낼 수 있지만, 위험한 물건을 누구나 제작할 수도 있다는 문제점이 있습니다.

17 다음과 같은 활동에 이용되는 것은 무엇입니까? ()

- 시장: 태풍 피해로 인해 긴급 복구가 필요한 현장을 알려 주시면 즉각 조치하겠습니다.
- 시민: ○○동의 비닐하우스가 무너졌습니다.
- 시장: 피해 상황을 점검하여 복구하였습니다.

- ① 상황 관찰기 ② 인터넷 검색
- ③ 커뮤니티 매핑 ④ 온라인 백과사전
- ⑤ 누리 소통망 서비스

18 다음 빈칸에 들어갈 알맞은 말을 쓰시오.

세계 여러 나라 대표들은 1992년 브라질의 리우데자네이루에 모여 지구 온난화의 주범인 이산화 탄소 등의 온실가스 배출량을 제한하는 국제 연합 () 협약을 맺었습니다.

()

19 한 나라 안에서 일어나는 전쟁을 무엇이라고 합니까? ()

- ① 내전 ② 대립 ③ 갈등
- ④ 차별 ⑤ 세계 대전

20 다음 자료와 관련된 국제기구는 무엇입니까? ()



- ① 유니세프 ② 그린피스
- ③ 국제 연합 ④ 유네스코
- ⑤ 세계 보건 기구



쪽지 시험

1 우리나라의 민주 정치

1 우리 생활과 민주 정치

2쪽

- 1 정치 2 국민 3 ○ 4 법
5 갈등 6 평화 7 헌법 8 권력
9 국민 10 아테네

2 국가의 일을 맡아 하는 기관들

3쪽

- 1 국회 2 4 3 법 4 예산안
5 법원 6 × 7 정부 8 국무총리
9 수상(총리) 10 삼권 분립

3 국민의 권리와 의무

4쪽

- 1 존엄성 2 차별 3 요청 4 조화
5 제한 6 자유 7 의무 8 국방의 의무
9 환경 보전 10 ○

4 행복한 삶과 인권

5쪽

- 1 인권 2 ○ 3 12월 10일
4 세계 인권 선언 5 인권 6 인권
7 경사로 8 시각 장애인 9 존중
10 국가 인권 위원회

2 이웃 나라의 환경과 생활 모습

1 우리와 가까운 나라의 모습

6쪽

- 1 × 2 위도 3 태풍
4 에베레스트 5 바이칼호 6 지진대
7 베이징 8 환태평양 9 러시아 10 중국

2 우리와 가까운 나라의 문화

7쪽

- 1 기모노
2 쓰촨 요리, 베이징 요리, 광둥 요리, 상하이 요리
3 사합원 4 스모 5 보르시 6 마네키네코
7 젓가락 8 유교 9 중추절 10 양력

3 우리나라와 이웃 나라의 교류

8쪽

- 1 수입 2 중국 3 황사 4 ○
5 나로호 6 신사 7 일본 8 중국
9 영해 10 이어도

3 세계 여러 지역의 자연과 문화

1 세계 여러 나라의 모습

9쪽

- 1 아시아 2 태평양 3 남극 4 김찬삼
5 위치 6 사우디아라비아 7 지구본
8 ㉠ 러시아 ㉡ 바티칸 9 칠레 10 ○

2 세계의 다양한 문화

10쪽

- 1 세계인의 날 2 오른쪽 3 올림픽
4 로바니에미 5 헝가리 6 아마존강
7 루브르 박물관 8 가라. 9 ×
10 여자

3 우리나라와 세계 여러 나라의 관계

11쪽

- 1 서남아시아 2 기술력 3 부르즈 할리파
4 이슬람교 5 메카 6 극세사 담요
7 동남아시아 8 눈 9 증가 10 ○

4 변화하는 세계 속의 우리

1 우리가 만들어 가는 미래 사회

12쪽

- 1 과학 기술 2 버스 운행 정보 알림판
3 추돌 예방 레이더 4 3차원(3D)
5 라둠 6 유전자
7 누리 소통망 8 ×
9 정보 사회 10 스마트폰 중독 문제

2 세계화의 모습과 우리의 역할

13쪽

- 1 세계화 2 자유 무역 협정(FTA)
3 ○ 4 국제 연합 기후 변화 협약
5 아마존강 6 유럽 연합(EU)
7 동남아시아 국가 연합(ASEAN)
8 스코틀랜드 9 편견
10 문화 다양성 선언



- 3** 함께 해결하는 지구촌 문제 14 쪽
- | | |
|----------------|-----------------|
| 1 전쟁 | 2 지구 온난화 |
| 3 국제 연합(UN) | 4 유니세프(unicef) |
| 5 유네스코(UNESCO) | 6 세계 보건 기구(WHO) |
| 7 민간단체 | 8 ○ |
| 9 저체온증 | 10 119 국제 구조대 |

유형 문제

1 우리나라의 민주 정치

- 1** 우리 생활과 민주 정치 15 쪽
- 1 민주 정치 2 ⑤ 3 ㉠, ㉡ 4 ②
5 ④

- 2** 국가의 일을 맡아 하는 기관들 16 쪽
- 1 ㉠, ㉡, ㉢ 2 법원 3 ⑤
4 ② 5 ①

- 3** 국민의 권리와 의무 17 쪽
- 1 헌법 2 ③ 3 ③ 4 ④
5 ⑤

- 4** 행복한 삶과 인권 18 쪽
- 1 일국, 민국 2 ① 3 ㉠, ㉡
4 국가 인권 위원회

2 이웃 나라의 환경과 생활 모습

- 1** 우리와 가까운 나라의 모습 19 쪽
- 1 ①, ③ 2 ㉠ 러시아 ㉡ 중국 3 ②
4 ④ 5 알프스 · 히말라야

- 2** 우리와 가까운 나라의 문화 20 쪽
- 1 ④, ⑤ 2 ② 3 ㉠, ㉡, ㉢ 4 ③

- 3** 우리나라와 이웃 나라의 교류 21 쪽
- 1 ② 2 중국 3 ⑤
4 ㉠, ㉡, ㉢

3 세계 여러 지역의 자연과 문화

- 1** 세계 여러 나라의 모습 22 쪽
- 1 (다), 태평양 2 ①, ③ 3 ①
4 칠레

- 2** 세계의 다양한 문화 23 쪽
- 1 ㉡, ㉢ 2 ⑤ 3 ② 4 ②, ③

- 3** 우리나라와 세계 여러 나라의 관계 24 쪽
- 1 ④ 2 ① 3 ⑤ 4 ①

4 변화하는 세계 속의 우리

- 1** 우리가 만들어 가는 미래 사회 25 쪽
- 1 ㉠, ㉡, ㉢ 2 ③, ⑤ 3 정보 사회 4 ③

- 2** 세계화의 모습과 우리의 역할 26 쪽
- 1 세계화 2 ㉠, ㉡ 3 ㉠, ㉡, ㉢ 4 ②

- 3** 함께 해결하는 지구촌 문제 27 쪽
- 1 ㉠, ㉡, ㉢ 2 ①, ② 3 인권 4 ④

실전 서술형·논술형 문제

1 우리나라의 민주 정치 28~29 쪽

- 1 ㉡ 법에 따라 법을 바꾸거나 다시 만들어야 한다.
- 2 (1) 헌법
(2) ㉡ 우리나라에서 국가의 일을 결정할 수 있는 힘은 국민에게 있다.

- 3 예 국민을 위한 법을 만들고 바꾸거나 없앤다. / 정부가 예산안을 잘 짰는지, 예산을 적절히 사용했는지 꼼꼼하게 따져 본다. / 정부가 법에 따라 국가의 일을 잘하였는지 살펴본다.
- 4 예 공정한 재판을 하기 위해서이다.
- 5 예 서로를 견제하며 균형 있는 정치를 할 수 있다.
- 6 예 국민의 행복한 삶을 보장하고 있기 때문이다.
- 7 예 헌법을 바탕으로 하여 서로 조화를 이루도록 조정하여야 한다.
- 8 (1) 환경 보전을 위하여 노력할 의무
(2) 예 국가와 국민은 환경을 잘 가꾸며 보호하기 위하여 노력해야 한다.
- 9 예 다리가 불편한데 계단만 있어 이동하기 힘든 친구에게 엘리베이터를 설치하여 편리하게 이동할 수 있도록 해 주었다.
- 10 예 보건실 등과 같은 학교 시설이 학생들이 이용하기에 적합한지 살펴보아야 한다.

2 이웃 나라의 환경과 생활 모습 30~31 쪽

- 1 (1) 북위 15° ~ 53°, 동경 73° ~ 135°
(2) 예 중국의 영토는 한반도 전체 넓이의 약 44배에 달한다.
- 2 예 동서로 넓은 영토를 가지고 있어 11개의 표준시를 사용하기 때문이다.
- 3 예 전체 국토의 대부분이 산지이다. / 화산이 많다. / 해안선이 복잡하다.
- 4 예 일본이 환태평양 지진대에 속해 있기 때문이다.
- 5 (1) 사합원
(2) 예 중앙에 네모난 정원을 두고, 북쪽과 동쪽, 서쪽에 가옥을 배치하며 남쪽에는 출입문을 만들어 놓은 형태이다.
- 6 (1) ㉠ 기모노 ㉡ 삼보
(2) 예 한자를 사용한다. / 젓가락을 사용하여 음식을 먹는다. / 밥과 국, 반찬 등을 상에 올린다. / 유교의 영향을 받았다. / 불교의 영향을 받았다.
- 7 예 유교의 영향을 받았기
- 8 예 우리나라와 중국, 일본의 환경 장관들이 모여서 황사와 관련된 논의를 한다.

- 9 (1) 예 매년 황해에서 중국 어선이 꽃게를 비롯한 각종 물고기를 잡으려고 우리의 영해를 침범하여 갈등을 일으키고 있다.
(2) 예 우리 어부들이 잡을 수 있는 고기가 부족하다. / 중국 어선에서 어린 새끼까지 마구잡이로 잡아서 자원이 사라지고 있다. / 중국 어선을 단속하는 해경들이 다치기도 한다.

3 세계 여러 지역의 자연과 문화 32~33 쪽

- 1 (1) ㉠ 아시아 ㉡ 태평양
(2) 예 아시아는 6대륙 중 가장 크며 세계 육지 넓이의 약 30%를 차지한다. / 태평양은 세계 최대의 대양이다.
- 2 (1) 아르헨티나, 예 남아메리카 대륙에 위치한다. / 동쪽에 대서양과 접해 있다. / 남위 22°~52°, 서경 54°~74°에 위치한다.
(2) 예 비교적 정확하게 여러 나라의 위치, 거리, 면적 등을 표현할 수 있다.
- 3 (1) ㉢
(2) 러시아는 세계에서 가장 큰 나라이고, 캐나다는 두 번째로 큰 나라야.
- 4 예 이슬람 문화권에서는 머리를 만지는 것이 영혼을 빼앗아 가는 행동이라고 생각하기 때문이다.
- 5 예 세계 여러 나라의 문화를 존중하고 이해하려는 마음가짐이 필요하다.
- 6 예 우리나라의 뛰어난 기술력으로 수로 공사, 신도시 건설 등을 맡아 하며 서남아시아 지역의 발전을 돕고 있다.
- 7 (1) 예 대부분 1년 내내 덥고 습한 열대 기후이다.
(2) 예 동남아시아에는 눈이 내리지 않기 때문에 겨울을 체험하기 위하여 우리나라에 온다.
- 8 예 사람들은 서로 다른 자연환경을 경험하기 위하여 다른 나라에 여행을 간다. / 서로에게 필요한 기술이나 학문, 노동력을 얻기 위하여 교류한다.

4 변화하는 세계 속의 우리 34~35 쪽

- 1 (가) 예 무인기의 개발로 물건을 집 앞까지 빨리 배달할 수 있다.



(나) 예 버스 운행 정보 알림판에 버스 도착 시각이 안내되어 버스를 기다리는 시간을 예측할 수 있다.

2 (1) 3차원(3D) 프린터

좋은 점	예 물건을 입체적으로 만들어 낼 수 있다. / 도면만 있으면 무엇이든 만들 수 있다.
문제점	예 위험한 물건을 누구나 제작할 수 있다.

3 예 다양한 정보가 개방되어 있어 빠르게 정보를 얻거나 공유할 수 있다.

4 (1) 경제

(2) 예 각 나라의 독특한 인문 환경과 자연환경의 특징을 살려 활발한 경제 교류를 함으로써 서로 도움을 주고받는다.

5 예 세계화 과정에서 세계 경제와 정치가 선진국 중심으로 불평등하게 진행되어 개발 도상국의 입장이 경시되는 경우가 있다.

6 예 세계화가 진행되면서 여러 나라의 문화가 결합되어 새로운 문화가 탄생하기도 한다.

7 예 자연 생태계를 파괴한다. / 토양을 망가뜨려 농사를 짓기 어렵게 한다. / 사막화가 황사로 이어져 사람의 건강을 위협한다.

8 (1) 세계 보건 기구(WHO)

(2) 예 유행병이나 전염병에 대한 대책을 마련한다. / 질병에 관한 연구 자료와 정보를 제공한다. / 깨끗하고 건강한 환경에서 생활할 수 있도록 캠페인 활동을 한다.

9 예 나눔 동아리 활동으로 어려운 나라의 어린이들을 도와준다. / '털모자 뜨기' 운동에 참여한다.

중간·기말 학력평가

중간 학력평가

36~38쪽

1 ② 2 법 3 ② 4 ⑤

5 예 법에 따라 옳고 그름을 따져 사람들 사이에서 생긴 갈등을 해결하여 준다. / 개인이나 국가로부터 피해를 입은 사람을 도와준다. / 사회에 피해를 준 사람에게 벌을 주어 사회 질서를 유지한다.

6 ㉠ 대통령 ㉡ 국무총리 7 ③ 8 ④

9 예 지역 사회와 정부에서 보건실 등 학교 시설을 학생들이 이용하기에 적합하게 만들어 준다.

10 ④ 11 ③ 12 ① 13 ③

14 러시아 15 ①

16 예 젓가락을 사용하여 음식을 먹는다. / 밥과 국, 반찬 등을 상에 올린다.

17 ③ 18 ⑤ 19 ① 20 ②

기말 학력평가

중간 이후 범위

39~41쪽

1 ㉠ 대양 ㉡ 대륙 2 ② 3 ⑤

4 ④ 5 ④ 6 ④

7 예 신혼부부에게 행운을 가져다준다고 믿기 때 문입니다.

8 예 우리나라의 뛰어난 기술력으로 다른 나라들 을 도와주고 있는 모습이다.

9 ① 10 ② 11 ②

12 유전자 변형 기술 13 ① 14 ①

15 예 세계화가 진행됨에 따라 여러 나라의 상호 의존성이 점차 높아지고 있다.

16 ㉡ 17 ③ 18 ⑤ 19 ④

20 ⑤

기말 학력평가

전 범위

42~44쪽

1 ⑤

2 예 국회는 국민의 대표인 국회 의원들로 구성되 어 있기 때문이다.

3 ② 4 교육의 의무 5 ④

6 ㉠, ㉡, ㉢ 7 ④ 8 ② 9 ③

10 아시안 하이웨이 11 ④ 12 ②

13 예 자원과 노동력이 풍부하기 때문이다. / 교육 열이 높기 때문이다. / 세계 여러 나라와 다양 한 관계를 맺고 있기 때문이다.

14 ⑤ 15 ③

16 예 과학 기술은 우리가 보다 나은 삶을 살 수 있도록 해 주지만 잘못 활용될 경우 사회 문제 를 일으킬 수 있다.

17 ⑤ 18 기후 변화 19 ①

20 ③